




1 Kijk en bespreek.



| product | gewicht | prijs/kg | te betalen |
|-----------|----------|----------|------------|
| gehakt | 0,669 kg | € 6,40 | € 4,28 |
| tomaten | 0,705 kg | € 0,49 | € 0,35 |
| wortelen | 1,035 kg | € 0,59 | € 0,61 |
| paprika's | 0,610 kg | € 1,99 | € 1,21 |
| totaal | | | € 6,45 |

Wat is het duurst? Hoeveel kost 1 kilo gehakt?
 Hoeveel moet ik in totaal betalen?

2 Luister goed! Heeft de meester of juf het getal juist of fout gelezen?

| | | | |
|--------------------------------|--------------------------------|--------------------------------|--------------------------------|
| 565,45 | 1,212 | $\frac{23}{100}$ | 5H 6T 8t 2h 3d |
| <input type="checkbox"/> juist | <input type="checkbox"/> juist | <input type="checkbox"/> juist | <input type="checkbox"/> juist |
| <input type="checkbox"/> fout | <input type="checkbox"/> fout | <input type="checkbox"/> fout | <input type="checkbox"/> fout |

1 duizendste [d]
 $= \frac{1}{1\ 000}$
 $= 0,001$




3 Getallictee

- a b c d
 e f g h

4 Getallenassen


a Plaats 7,10 en 7,4 op de as. Schrijf het juiste getal onder de pijltjes.



b Plaats 7,26 en 7,24 op de as. Schrijf het juiste getal onder de pijltjes.



c Plaats 7,255 en 7,259 op de as. Schrijf het juiste getal onder de pijltjes.



d Plaats 7,17 en 7,24 op de as. Schrijf het juiste getal onder het pijltje.



5 Schrijf het anders en bepaal de waarde van het vetgedrukte cijfer.

$0,112 = \frac{112}{1\,000} \rightarrow 2d$

$0,867 = \dots \rightarrow \dots$

$\frac{99}{100} = \dots \rightarrow \dots$

$0,349 = \dots \rightarrow \dots$

$\frac{8}{10} = \dots \rightarrow \dots$

$0,001 = \dots \rightarrow \dots$

$0,19 = \dots \rightarrow \dots$

$\frac{466}{100} = \dots \rightarrow \dots$

6 Noteer in de tabel.

| | D | H | T | E | , | t | h | d |
|----------------------------|---|---|---|---|---|---|---|---|
| 1,765 → | | | | | | | | |
| 30 honderdsten → | | | | | | | | |
| 3H 9E 1t 5h 2d → | | | | | | | | |
| 125 duizendsten → | | | | | | | | |
| 8 gehelen 30 duizendsten → | | | | | | | | |

| | | | | | | | | |
|----------------------|--|--|--|--|--|--|--|--|
| $\frac{7}{1\,000}$ → | | | | | | | | |
| 8T 3H 5t 8d → | | | | | | | | |

7 Kijk goed en vul dan aan met <, > of =.

$0,520 \dots 0,505$

$0,10 \dots 0,8$

$5,03 \dots 5,030$

$38,123 \dots 38,321$

$44,44 \dots 4,444$

$1,011 \dots 1,110$

$3h\ 8t\ 6d \dots 0,386$

$\frac{5}{1\,000} \dots 0,500$

$0,302 \dots 0,320$

$\frac{8}{10} \dots 0,01$

$8H\ 6d\ 5h \dots 866$

$6,532 \dots 6E\ 2h\ 3d\ 5t$

8 Waar tank je het goedkoopst?



Rangschik van duur naar goedkoop: > > >

Waar zal Sofie tanken?

SPRONG 8



Naam:

Nr.

1 KOMMAGETALLEN TOT OP 0,001

a Getallendictee. Noteer het getal dat je hoort eerst in de tabel schrijf het er dan naast. 

| D | H | T | E | . | t | h | d |
|---|---|---|---|---|---|---|---|
| | | | | | | | |
| | | | | | | | |
| | | | | | | | |
| | | | | | | | |
| | | | | | | | |

→
 →
 →
 →
 →

Waar komt de komma?



b Noteer de getallen juist in en naast de tabel.

74,934

0,016

5E 3d 4t 7T

6h 2t 9d

65 honderdsten

8 duizendsten

3 gehelen 62 duizendsten

6 tienden 4 honderdsten

12 duizendsten

| D | H | T | E | . | t | h | d |
|---|---|---|---|---|---|---|---|
| | | | | | | | |
| | | | | | | | |
| | | | | | | | |
| | | | | | | | |
| | | | | | | | |
| | | | | | | | |
| | | | | | | | |
| | | | | | | | |
| | | | | | | | |
| | | | | | | | |

→
 →
 →
 →
 →
 →
 →

c Noteer de waarde van het onderstreepte cijfer telkens op twee manieren.

Bijvoorbeeld:

13,02 → 2h of 0,02



Gebruik de tabel!

57,65 → of

15,008 → of

46,862 → of

5,86 → of

50,41 → of

0,124 → of

15,306 → of

0,777 → of

4,444 → of

| D | H | T | E | . | t | h | d |
|---|---|---|---|---|---|---|---|
| | | | | | | | |
| | | | | | | | |
| | | | | | | | |
| | | | | | | | |
| | | | | | | | |
| | | | | | | | |
| | | | | | | | |
| | | | | | | | |
| | | | | | | | |
| | | | | | | | |