



Het gebeurt dat een handelaar iets verkoopt aan verminderde prijs.

Hij geeft dan afslag of **korting**.

Noteer enkele redenen waarom een handelaar korting geeft.

- **koopjesperiode**
- **trouwe klant**
- **beschadigd artikel**
- **grote gezinnen**
- **laatste artikel**
- **bepaalde periode in het jaar:**
- **grote hoeveelheid**
- **bv. nieuwjaar...**




Een warenhuis geeft 1,79 euro korting op een 6-pack frisdrank, dat normaal 6,72 euro kost. De familie Van Dorst koopt 10 verpakkingen van die frisdrank. Hoeveel moet de familie Van Dorst betalen?

De familie Van Dorst betaalt 49,30 euro.

Hoeveel voordeel doet ze?

Ze doet 1,790 euro voordeel.



Juffrouw Vinck heeft 12 cd's kunnen kopen aan een gunstprijis.

Ze heeft deze cd's gekocht voor 148,32 euro.

De volle prijs van een cd is 14,85 euro.

Hoeveel is de volle prijs van 12 cd's?


De volle prijs van 12 cd's is 178,20 euro.

Hoeveel heeft ze voor één cd betaald?

Voor één cd betaalde ze 12,36 euro.

Hoeveel korting of afslag gaf de handelaar per cd?

De handelaar gaf 2,49 euro afslag per cd.



4

Schoenwinkel Sandalo verkoopt uit. De winkelier geeft 30 % korting op alle schoenen. Mama koopt voor elk van haar drie kinderen een paar schoenen. De volle prijs van één paar schoenen is 49,55 euro. Hoeveel zou mama normaal betalen?


Mama zou normaal 148,65 euro betalen.

Hoeveel bedraagt de totale korting?

De totale korting bedraagt 44,59 euro.

Hoeveel betaalt mama?

Mama betaalt 104,06 euro.



5

Noteer met onderstaande woorden en tekens telkens een passende formule. Kies uit: korting, volle prijs, wat de klant betaalt, x, +, -, :, =.

(volle prijs) - (korting) = (wat de klant betaalt)

(volle prijs) - (wat de klant betaalt) = (korting)

(korting) + (wat de klant betaalt) = (volle prijs)

