

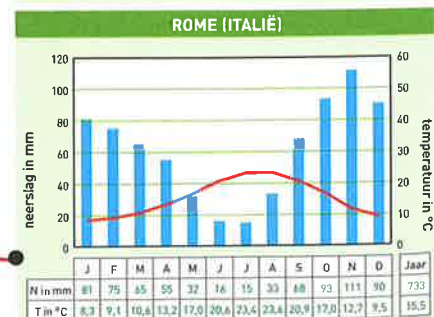
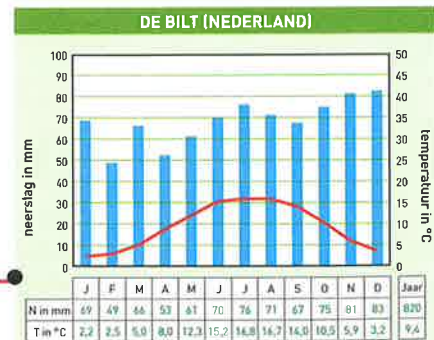
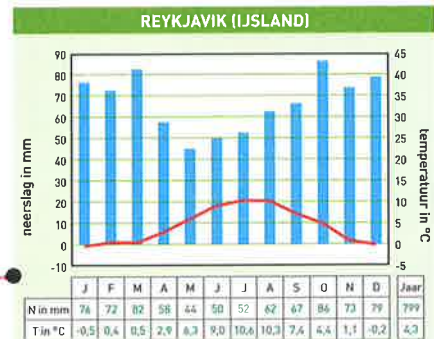
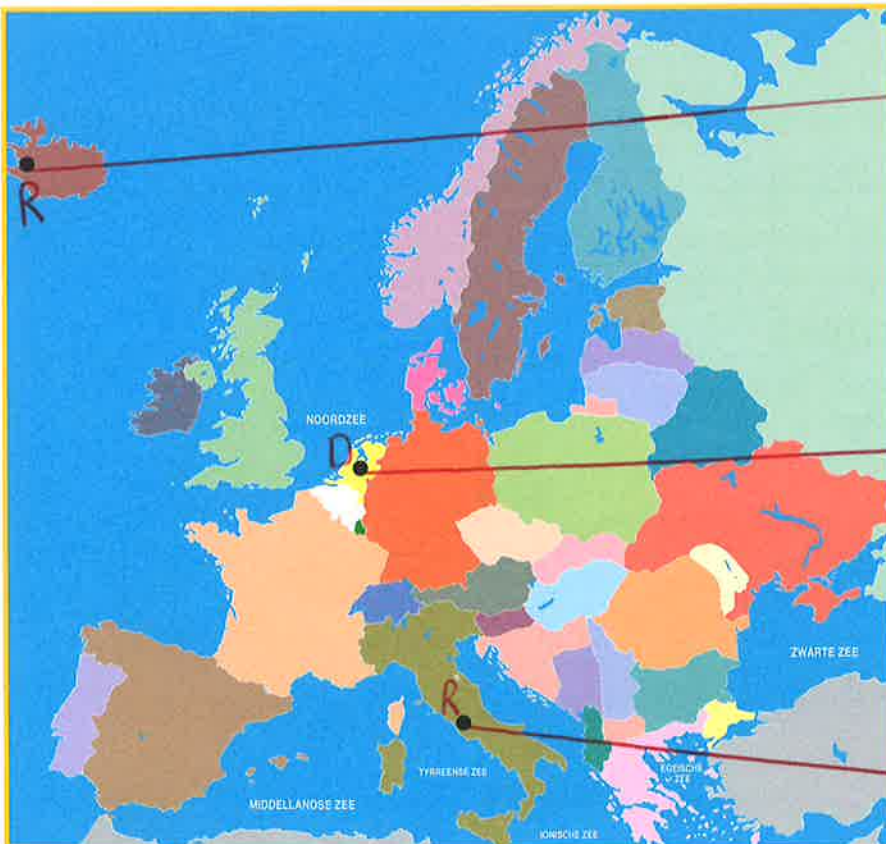
## 4 Zelf een klimatogram samenstellen

In het bronnenboek vind je de weergegevens van Ukkel. Zet de gegevens in het onderstaande klimatogram.



## 5 Klimaat in Europa

Je krijgt het klimatogram van drie Europese steden. Verbind het klimatogram met een lijn met de passende stip op het kaartje. Voer daarna de opdrachten uit op de volgende pagina.



Vergelijk de klimatogrammen op de vorige pagina met de klimatogrammen van steden in ons land in vorige opdrachten. Lijkt het goed op de situatie in ons land, zet dan een X. Verschilt het duidelijk van de situatie in ons land, zet een —.

	Reykjavik	Utrecht	Rome
temperatuur	—	X	—
neerslag	X	X	—

- Welk klimatogram lijkt het sterkst op die van onze steden? De Bilt
- In Rome is het gemiddeld veel warmer en valt er minder neerslag.
- In Reykjavik is het gemiddeld veel kouder en valt er ongeveer evenveel neerslag.
- Welk klimaat hebben deze steden? Rome: warmgematigd,  
Utrecht: koelgematigd, Reykjavik: koelgematigd
- Welke stad zou je verkiezen voor zijn klimaat? Waarom? \_\_\_\_\_

## 6 Mensen, dieren en planten passen zich aan

Mensen, dieren en planten passen zich aan aan het klimaat. Noteer enkele woorden die passen bij de prent. Kruis je favoriet aan.



kameel in de Sahara (woestijnklimaat)

sand, droog, warm



Eskimo's in Groenland (poolklimaat)

koud, sneeuw, ijs



strand in Spanje (warmgematigd klimaat)

warm, zon, zee



de was doen in Mexico (tropisch vochtig klimaat)

heel warm, droog



landschap in Limburg (koelgematigd klimaat)

zacht, aangenaam, groen