

$18 + 7 = 25$	$65 + 8 = 73$
$57 + 5 = 62$	$33 + 9 = 42$
$89 + 9 = 98$	$17 + 6 = 23$
$64 + 7 = 71$	$76 + 7 = 83$
$36 + 8 = 44$	$58 + 5 = 63$



Noteer de som. Je mag de splitsing noteren.

$26 + 9 = 35$
 $67 + 6 = 73$
 $72 + 9 = 81$
 $35 + 8 = 43$
 $63 + 8 = 71$

$76 + 9 = 85$
 $39 + 2 = 41$
 $73 + 8 = 81$
 $64 + 7 = 71$
 $89 + 4 = 93$

$18 + 7 = 25$
 $38 + 5 = 43$
 $65 + 8 = 73$
 $49 + 6 = 55$
 $19 + 7 = 26$

$7 + 5 = 12$
 $69 + 8 = 77$
 $47 + 5 = 52$
 $28 + 7 = 35$
 $19 + 8 = 27$



In het station wachten 38 volwassenen en acht kinderen op de trein naar Antwerpen. Hoeveel personen wachten op de trein naar Antwerpen?

Op de trein naar Antwerpen wachten **46** personen

$38 + 8 = 46$



De zus van Trees weegt 39 kg. Trees weegt 9 kg meer. Hoeveel weegt Trees?

Trees weegt **48** kg.



$39 + 9 = 48$

Zelf te kiezen

Woteer vier bewerkingen bij elk getal.

5 =

.	.	.
.	.	.
.	.	.

 | 60 =

.	.	.	.
.	.	.	.
.	.	.	.

 | 16 =

.	.	.
.	.	.
.	.	.

 | 27 =

.	.	.	.
.	.	.	.
.	.	.	.

Joost geeft An 5 euro. Nu heeft hij nog 37 euro.
Hoeveel euro had Joost eerst?

Joost had 42 euro.

< = >

28 ³³ + 5 < 35

42 ⁵⁰ + 8 < 51

78 > 69 ⁷⁷ + 8

36 ⁴² + 6 = 42

63 > 57 ⁶¹ + 4



	+5	+7	+9
48	53	55	57
65	70	72	74
81	86	88	90



	-5	-20	-7
87	82	67	80
70	65	50	63
39	34	19	32



Wat is niet juist?

59 + 9 = (59 + 10) - 1

68 (59 + 1) + 8

(60 + 10) - 2

(60 + 9) + 1


89 + 10 = (80 + 10) + 9

99 (90 + 10) + 1

(90 + 10) - 1


(89 + 1) + 9

1



2

Kleur de vakjes waarin een product staat uit de tafel van 2, 3 of 5.



3

Vul het product in.

	x 4	x 6	x 7	x 1	x 8	x 10
3	12	18	21	3	24	30
5	20	30	35	5	40	50

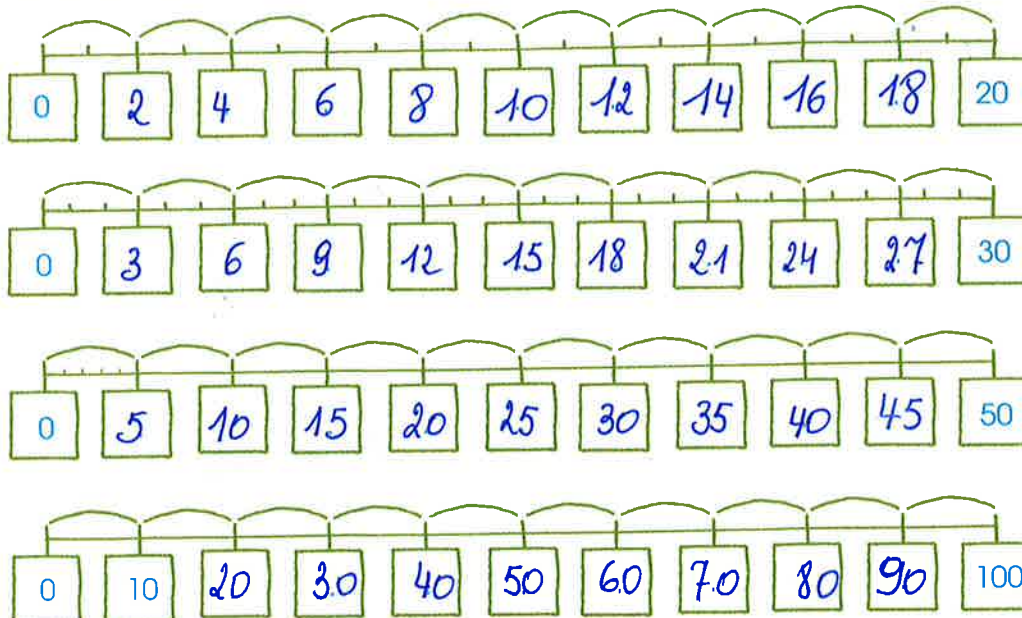
4

Vul in wat ontbreekt.

$9 \times 2 = 18$	$9 \times 3 = 27$
$5 \times 2 = 10$	$0 \times 4 = 0$
$6 \times 2 = 12$	$8 \times 3 = 24$
$4 \times 5 = 20$	$3 \times 10 = 30$
$10 \times 6 = 60$	$8 \times 5 = 40$
$8 \times 2 = 16$	$4 \times 3 = 12$

5

Vul de producten in.



Geza drinkt elke dag drie volle glazen melk.
Hoeveel glazen is dat na een week?

Geza drinkt **21** glazen melk in een week.



$$7 \times 3 = 21$$

Papa koopt drie grote pakken toiletpapier.
In elke pak zitten tien rollen.

Hoeveel rollen toiletpapier koopt papa?

Papa koopt **30** rollen toiletpapier.



$$3 \times 10 = 30$$

Lieve loopt elke dag tien rondjes.

Hoeveel rondjes loopt Lieve in vijf dagen?

Lieve loopt **50** rondjes in vijf dagen.



$$5 \times 10 = 50$$

Zelf in te vullen

Noteer vier vermenigvuldigingen bij elk product.

8 =	30 =	12 =	18 =
• • •	• • •	• • •	• • •
• • •	• • •	• • •	• • •
• • •	• • •	• • •	• • •
• • •	• • •	• • •	• • •
40 =	10 =	20 =	24 =
• • •	• • •	• • •	• • •
• • •	• • •	• • •	• • •
• • •	• • •	• • •	• • •
• • •	• • •	• • •	• • •

$$5 + 5 + 5 + 5 = 4 \times 5$$

$$(7 \times 2) + (2 \times 2) = 9 \times 2$$

$$(5 \times 5) - (3 \times 5) = 2 \times 5$$

$$10 \times 2 = 5 \times 4$$

$$6 \times 4 = 3 \times 8$$

Het dubbele van de helft van 40 is **40**
 Honderd min 3 keer tien is **70**
 Vermeerder 60 met 3 keer 7. Dat is **81**
 De helft van 80 plus 3 keer 2 is **46**
 3 keer 2 vermenigvuldigd met 10 is **60**

Vul het product in.

$7 \times 3 = 21$

$7 \times 2 = 14$

$1 \times 3 = 3$

$5 \times 7 = 35$

$9 \times 5 = 45$

$6 \times 3 = 18$

$5 \times 2 = 10$

$8 \times 5 = 40$

$7 \times 2 = 14$

$9 \times 2 = 18$

$4 \times 2 = 8$

$2 \times 9 = 18$

$8 \times 3 = 24$

$6 \times 5 = 30$

$6 \times 1 = 6$

$3 \times 7 = 21$

$8 \times 5 = 40$

$7 \times 5 = 35$

$10 \times 5 = 50$

$1 \times 10 = 10$

Vul het rooster in.

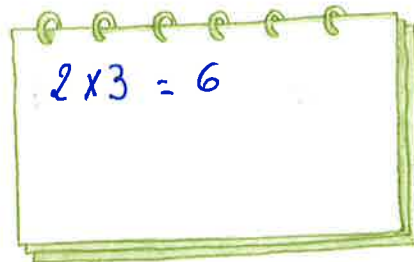
	x 5	x 2	x 1	x 3	x 0	x 10
6	30	12	6	18	0	60
8	40	16	8	24	0	80
7	35	14	7	21	0	70
9	45	18	9	27	0	90




Jo maakt in twee voetbalwedstrijden telkens drie doelpunten.

Hoeveel doelpunten maakt Jo?

Jo maakt 6 doelpunten.

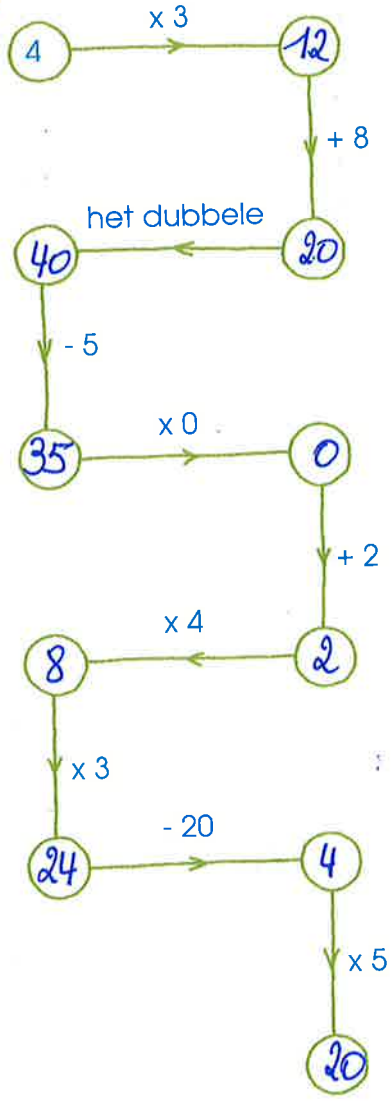


Kleur de ballonnen waarvan de vermenigvuldigingen dezelfde producten hebben in dezelfde kleur.



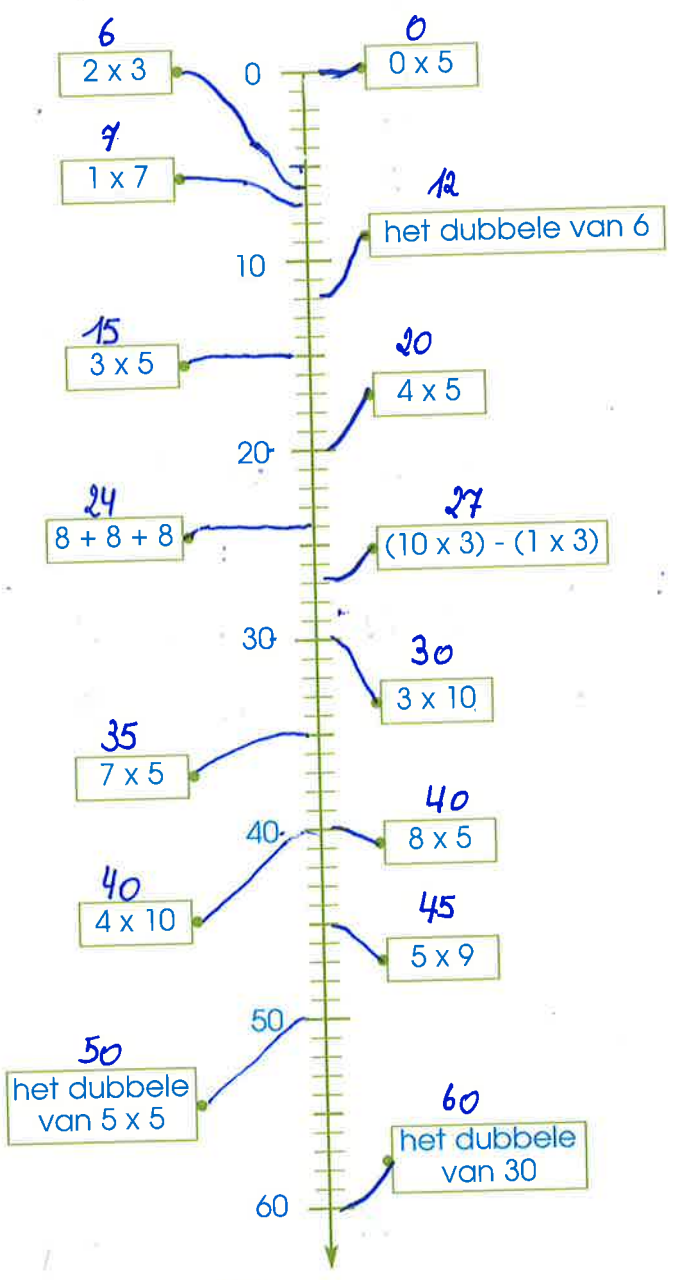
5

Volg de pijlen en vul in.



7

Verbind elke bewerking met het passende streepje op de getallenas.




6

Vul in wat ontbreekt.

	$\times 3$	$\times 10$	$\times 2$	$\times 5$
6	18	60	12	30
9	27	90	18	45
7	21	70	14	35
8	24	80	16	40



1




2




3

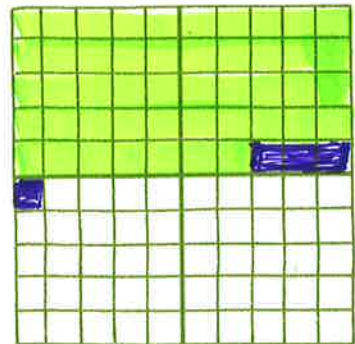
Kleur de bewerkingen in twee kleuren en noteer de som.



$$84 + 7 = 91$$






$$39 + 5 = 44$$



$$47 + 4 = 51$$

4

Noteer de bewerking en de som.



5

Noteer de som. Je mag het splitschema tekenen.

$$\begin{array}{r} 36 + 8 = 44 \\ \hline 44 \\ \hline 45 + 9 = 54 \\ \hline 54 \end{array}$$

$$\begin{array}{r} 69 + 2 = 71 \\ \hline 71 \\ \hline 26 + 7 = 33 \\ \hline 33 \end{array}$$

$$\begin{array}{r} 67 + 4 = 71 \\ \hline 71 \\ \hline 33 + 8 = 41 \\ \hline 41 \end{array}$$

Tante Trees betaalt voor een rok 48 euro
en voor een paar kousen 4 euro.

Hoeveel betaalt tante Trees in het totaal?

Tante Trees betaalt **52** euro in het totaal.



$$\begin{array}{r} 48 + 4 = 52 \\ + 2 \\ \hline 22 \end{array}$$

Paul is 4 kg afgevallen. Hij weegt nu nog 59 kg.

Hoeveel woog Paul vroeger?

Paul woog vroeger **63** kg.

$$\begin{array}{r} 59 + 4 = 63 \\ + 4 \\ \hline 13 \end{array}$$

Noteer de som. Je mag het splitschema tekenen.

$$\begin{array}{r} 87 + 4 = 91 \\ + 3 \\ \hline 11 \end{array}$$

$$\begin{array}{r} 49 + 2 = 51 \\ + 1 \\ \hline 11 \end{array}$$

$$\begin{array}{r} 24 + 8 = 32 \\ + 6 \\ \hline 12 \end{array}$$

$$\begin{array}{r} 72 + 9 = 81 \\ + 8 \\ \hline 11 \end{array}$$

$$\begin{array}{r} 47 + 8 = 55 \\ + 3 \\ \hline 11 \end{array}$$

$$\begin{array}{r} 89 + 5 = 94 \\ + 1 \\ \hline 14 \end{array}$$

$$\begin{array}{r} 25 + 6 = 31 \\ + 5 \\ \hline 11 \end{array}$$

$$\begin{array}{r} 85 + 7 = 92 \\ + 5 \\ \hline 12 \end{array}$$

$$\begin{array}{r} 79 + 2 = 81 \\ + 1 \\ \hline 11 \end{array}$$

$$\begin{array}{r} 78 + 3 = 81 \\ + 2 \\ \hline 11 \end{array}$$

$$\begin{array}{r} 37 + 4 = 41 \\ + 3 \\ \hline 11 \end{array}$$

$$\begin{array}{r} 24 + 7 = 31 \\ + 6 \\ \hline 11 \end{array}$$



Noteer de som of het verschil.

$$15 - 6 = 9$$

$$10 + 7 = 17$$

$$67 + 3 = 70$$

$$90 - 4 = 86$$

$$18 + 2 = 20$$

$$20 - 4 = 16$$

$$60 - 7 = 53$$

$$60 + 8 = 68$$

$$8 + 8 = 16$$

$$16 + 3 = 19$$

$$55 - 5 = 50$$

$$60 - 9 = 51$$

$$12 - 4 = 8$$

$$10 - 3 = 7$$

$$83 - 3 = 80$$

$$80 + 6 = 86$$

$$4 + 6 = 10$$

$$9 + 9 = 18$$

$$70 + 8 = 78$$

$$87 + 3 = 90$$

De som van 25 en 6 is **31**

Bij 58 moet **2** bij om 60 te hebben.

Tel 36 en 8 samen. Dat is **44**

6 meer dan 59 is **65**

Vermeerder 67 met 4. Dat is **71**