

$9 - 6 = 3$

$19 - 16 = 3$

$6 - 5 = 1$

$16 - 15 = 1$

$10 - 1 = 9$

$20 - 11 = 9$

$8 - 5 = 3$

$18 - 15 = 3$

$7 - 3 = 4$

$17 - 13 = 4$

$9 - 7 = 2$

$19 - 17 = 2$

$8 - 4 = 4$

$18 - 14 = 4$

$3 - 2 = 1$

$13 - 12 = 1$

$10 - 3 = 7$

$20 - 13 = 7$

$6 - 4 = 2$

$16 - 14 = 2$

$10 - 6 = 4$

$20 - 16 = 4$

$7 - 5 = 2$

$17 - 15 = 2$



$16 - 14 = 2$

$18 - 13 = 5$

$20 - 16 = 4$

$15 - 11 = 4$

$13 - 11 = 2$

$19 - 18 = 1$

$18 - 17 = 1$

$12 - 11 = 1$

$16 - 13 = 3$

$20 - 14 = 6$



$16 - 3 = 13$

$16 - 13 = 3$

$19 - 5 = 14$

$19 - 15 = 4$

$17 - 2 = 15$



$13 + 5 = 18$

$14 - 12 = 2$

$16 - 11 = 5$

$12 + 6 = 18$

$5 + 11 = 16$



$16 - 10 =$

$11 \square 20$

$= 4 + 10$

$14 - 8 \square$

$9 + 6 =$

$7 + 8 =$

$= 14 + 5$

$17 - 8 =$

$= 16 - 5$

$10 + = 20$

$17 = 10 + 7$

$14 + 2 = 16$

$1 = 18 - 17$

$15 = 19 - 4$

$13 - 10 = 3$



	plus 7	plus 6	plus 8
7	14	13	15
12	19	18	20
6	13	12	14



	min 10	min 8	min 3
20	10	12	17
15	5	7	12
11	1	3	8


2 ☀

9	
2	7
6	3
5	4
1	8
5	4

10	
7	3
2	8
5	5
1	9
6	4

8	
4	4
5	3
7	1
8	0
2	6

7	
3	4
2	5
1	6
7	0
5	2



$15 - 12 = 3$



$16 - 11 = 5$



$15 - 11 = 4$	$19 - 17 = 2$
$16 - 14 = 2$	$19 - 13 = 6$
$20 - 14 = 6$	$13 - 11 = 2$



$17 - 13 = 4$	$15 - 14 = 1$	$16 - 13 = 3$
$16 - 11 = 5$	$12 - 11 = 1$	$19 - 12 = 7$
$18 - 14 = 4$	$20 - 17 = 3$	$18 - 17 = 1$
$19 - 17 = 2$	$18 - 15 = 3$	$20 - 15 = 5$
$20 - 12 = 8$	$19 - 14 = 5$	$16 - 16 = 0$





$17 - 13 = 4$

$14 - 11 = 3$

$18 - 16 = 2$

$14 - 12 = 2$

$20 - 18 = 2$

$17 - 14 = 3$

$20 - 15 = 5$

$15 - 11 = 4$

$19 - 18 = 1$

$16 - 11 = 5$

$18 - 11 = 7$

$19 - 15 = 4$

$20 - 14 = 6$

$17 - 12 = 5$

$18 - 13 = 5$



$8 + 2 = 10$

$8 = 1 + 7$

$9 - 4 = 5$

$9 + 1 = 10$

$13 = 8 + 5$

$19 = 14 + 5$

$5 = 7 - 2$

$8 + 4 = 12$

$6 + 3 = 9$

$12 - 9 = 3$

$13 + 4 = 17$

$20 - 0 = 20$

$16 - 7 = 9$

$15 = 7 + 8$

$19 = 10 + 9$

$20 - 4 = 16$

$11 - 3 = 8$

$10 = 15 - 5$

$11 - 5 = 6$

$12 - 9 = 3$



wij zijn met zestien kinderen in de klas.  
elf ervan zijn meisjes. ra, ra, ra, hoeveel  
jongens zitten in onze klas?

In onze klas zitten **5** jongens.

In de tweede klas zitten drie meisjes meer dan  
in onze klas.  
hoeveel meisjes zitten in de tweede klas?

In de tweede klas zitten **14** meisjes.



	↓	↓	↓	
→	6	4	7	17
→	7	8	2	17
→	4	5	8	17
	17	17	17	



	↓	↓	↓	
→	7	8	5	20
→	10	4	6	20
→	3	8	9	20
	20	20	20	



$$16 - 11 = 5$$



$16 - 11 = 5$

$19 - 17 = 2$

$18 - 14 = 4$

$20 - 13 = 7$

$17 - 16 = 1$

$15 - 11 = 4$

$14 - 12 = 2$

$20 - 18 = 2$



$18 - 15 = 3$

$20 - 14 = 6$

$17 - 14 = 3$

$15 - 13 = 2$

$18 - 13 = 5$

$20 - 11 = 9$

$17 - 12 = 5$

$19 - 12 = 7$

$18 - 12 = 6$

$19 - 15 = 4$


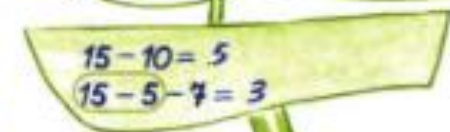
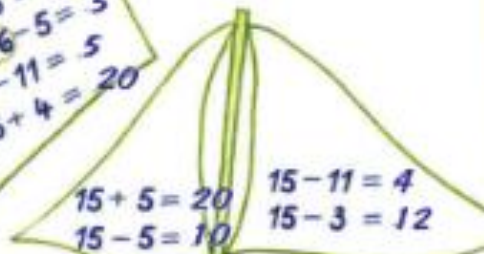
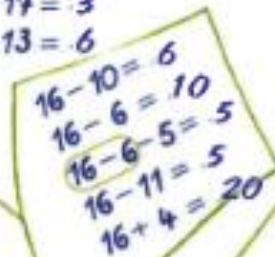
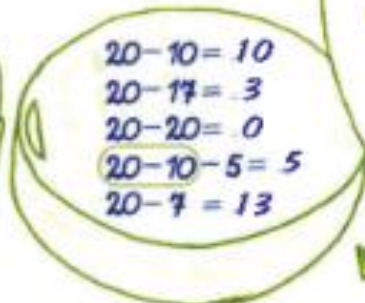

$20 - 15 = 5$

$20 - 17 = 3$

$15 - 12 = 3$

$13 - 12 = 1$

$19 - 13 = 6$





	+8	+4	+7
12	20	16	19
8	16	12	15
10	18	14	17



	-10	-12	-7
17	7	5	10
12	2	0	5
16	6	4	9



hoera! oma is jarig. ze krijgt een mooie ruiker met witte en rode tulpen. tine telt 18 tulpen. er zijn 13 witte tulpen. hoeveel rode tulpen zijn er in de ruiker?

er zijn ...5... rode tulpen in de ruiker.



tante bezoekt oma elke dag. ze gaat een half uur te voet. ze vertrekt om drie uur. de zon schijnt. hoe laat komt tante aan bij oma? duid aan op de klok.



vertrek



aankomst

tante blijft drie uur bij oma. hoe laat gaat tante naar huis? hoe laat komt tante thuis? duid aan op de klok.



vertrek



aankomst



tine weegt haar konijn knabbel en haar poes krabbel. wie weegt het zwaarste?

kleur het bolletje.

